

Восмищенко Мария  
Итого 565. *М.В.*

Управление образования Городовиковского районного муниципального образования Республики Калмыкия

Задания школьного этапа Всероссийской олимпиады школьников по обществознанию для 10-11 класса

2023-2024 учебный год

Продолжительность – 80 минут

1. Установите истинность и ложность высказываний и заполните таблицу ниже («да» - истинные суждения, «нет» - ложные).

Максимальное количество баллов за задание – 10.

1. Протекционизм в экономике – одна из мер межнациональной интеграции.
2. Такой регулятор экономики как ключевая ставка введен в России в 2013 году.
3. Понятия знака и символа тождественны.
4. Движение за сближение и объединение различных христианских конфессий называется экуменизмом.
5. Огюст Конт – автор работы «Протестантская этика и дух капитализма».
6. Уровень эмоциональных связей между членами социальной группы является критерием для выделения больших и малых групп.
7. Оман по форме правления является парламентской республикой.
8. Филиация – приобретение гражданства по факту рождения.
9. Согласно Налоговому кодексу РФ, государственные пенсии подлежат налогообложению.
10. Депутатом Государственной Думы РФ можно стать только по достижении 21 года.

1.	2.	3.	4.	5.	6.	7.	8.	9.	10.
нет	да	нет	да	нет	нет	нет	да	нет	да
+	+	+	+	+	-	+	+	-	+

2. Выберите и обведите лишние понятия в ряду.





Максимальный балл за задание – 5 баллов.

1. Индустриализация, секуляризация, натуральное хозяйство, <sup>+</sup> рост <sub>10</sub> промышленного производства.
2. О. Конт, П. А. Сорокин, С. М. Эйзенштейн, М. Вебер, Э. Дюркгейм. <sub>-05</sub>
3. Мать, отец, брат, супруг, дочь. <sub>+10</sub>
4. Филиация, интернационализация, гуманитаризация, гуманизация, компьютеризация. <sub>-05</sub>
5. Земельный налог, торговый сбор, налог на добычу полезных ископаемых, налог на имущество физических лиц. <sub>10</sub>

(30)

3. Установите соответствие между логотипом и организацией. Укажите цифру, которой обозначено изображение, являющееся смысловым исключением.

Максимальный балл за задание – 5.

1.	2.
	
3.	4.
	

А. Федеральная служба по труду и занятости

В. Совет Федерации РФ

С. Министерство экономического развития

Д. Министерство науки и высшего образования

А	В	С	Д	Исключение
3 р	1 р	4 р	2 р	р

50




4. Перед вами сводная таблица с указанием дословного перевода обществоведческих понятий и высказываниями публичных деятелей, в которых эти понятия скрыты. Определите, какие понятия зашифрованы в таблице. Максимальный балл за задание – 10.

Термин	Перевод	Пример использования
А <i>Ничто</i> X	«Ничто»	Молодые люди обрадовались. И в самом деле, прежде они просто были болваны, а теперь они вдруг стали ***. Иван Тургенев
Б <i>Пропанонда</i> P	«Подлежащее распространению»	Вся *** служит одной и той же цели, а каждое из ее орудий и весь аппарат организовывается так, чтобы координированным образом влиять на людей в одном направлении и в конечном счёте достичь полной унификации всех умов. Фридрих фон Хайек
В —	«Умиротворяющий»	Отцом современного *** было благосостояние, а мать — страх.
Г <i>Ревальюция</i> P	«Поворот, переворот, превращение, обращение»	*** — варварский способ прогресса. Жан Жорес
Д <i>Религия</i> P	«Связывание, повторное обращение к чемулибо»	***, скроенная по мерке нашего ума, не была бы религией по мерке наших потребностей. Артур Бальфур

5. Внимательно рассмотрите представленные изображения и заполните таблицу. Максимальный балл за задание – 10.


А. —	Б. —
------	------



В.



Г.



Элементы <u>Культуры</u> (1) <u>х</u>	
(2) <u>Символ</u> <u>х</u>	(3) <u>Знаки</u> <u>х</u>
<u>А, Г</u> <u>х</u>	<u>Б, В</u> <u>х</u>

6. Прочитайте текст и выполните задания.  
 Максимальный балл за задание – 10.

До начала творения Вселенная представляла собой бескрайний океан – темный, безжизненный и неподвижный; бороздить его было бы удобнее на подводной лодке, чем на космическом корабле. Не существовало отдельных стихий, неба и земли, жизни и смерти – лишь безмятный хаос. В таком виде – в молчании и неподвижности – Вселенная пребывала целую вечность.

Считалось, что человеческий разум не в силах до конца постичь её состояние; однако древние египтяне пытались это сделать, представляя взаимосвязанные элементы безбрежного океана в виде четырех неразрывных пар – мужчин-лягушек и женщин-змей. Нун и Наунет символизировали безграничные воды хаоса, Хух и Хаухет – бесконечное пространство, Кук и Каукет – мрак, Амун и Амаунет – сокровенное. Эти четыре пары нередко называют восемью изначальными богами Гермополя, или Огдоадой (от греческого слова, означающего восьмерку).

По мнению теологов Гермополя, чтивших силы изначального хаоса, восемь богов и богинь создали первый холм (или остров), а после него – яйцо, из которого родился бог солнца. В отдельных версиях мифа солнце появляется из яйца, спасенного гусем по имени Великий Гоготун или же богом Тотом. В облике ибиса. В других вариантах рассказа о творении восемь богов еще в Нуне создали водяную лилию, из которой родилось солнце. Сначала оно приняло форму жука-скарабея Хепри, а затем – божественного младенца Нефертума, из чьих открытых глаз струились лучи света.

*Египетские мифы. Гэрри Шоу*

1. Опираясь на текст, укажите, изображение какого бога перед Вами.



\_\_\_\_\_ Нун + 55 2. Какая из пар Огдоады представлена на изображении?



- Нун и Каукет + 25
- а. Кук и Каукет
  - б. Хух и Хаухет
  - в. Нун и Наунет







3. Опираясь на прочитанный текст предположите, что мог символизировать для древних египтян представленный на фото пирамидион.



*Первый камень - об.*

7. Перед вами четыре изображения, иллюстрирующие некое явление. Внимательно рассмотрите изображения и заполните таблицу ниже. Максимальный балл за задание – 10.

А	Б
	
В	Г
	

--	--

Стратегии разрешения <u>конфликта</u> (1) $\uparrow$			
А	Б	В	Г
<u>И убеждение</u> $\uparrow$	<u>Крипособлежен</u> $\uparrow$	<u>Сотрудничество</u> $\uparrow$	<u>Компромисс</u> $\uparrow$ 10 б.

8. Определите и напишите является утверждение верным или неверным.

Максимальный балл за задание – 5

1. Кризис является неизбежным для любой рыночной экономики, так как это неотъемлемая часть экономического цикла. Верно  $\uparrow$

2. В мировой торговле большее значение имеет сравнительное преимущество, а не абсолютное преимущество. Верно  $\uparrow$

3. Макроэкономика изучает отраслевые рынки, поведение потребителей и государственную экономическую политику. Неверно  $\uparrow$

4. Вопреки основным экономическим моделям, люди часто поступают иррационально. Верно  $\uparrow$

5. С точки зрения экономической теории, люди реагируют на стимулы. Верно  $\uparrow$  5 б.

Верно  $\uparrow$

**ИТОГО 65 баллов**